




تدريبات علاجية إثرائية نهاية الفصل الدراسي الثاني قسم العلوم 2023-2024 الوحدة السادسة: التصنيف



أسم الطالبة : _____
الصف الثالث : _____

1.1	ما الصف الذي ينتمي اليه الحيوان في الصورة؟	
	A الأسماك	
	B الثدييات	
	C الزواحف	
	D البرمائيات	

1.2	إلى أي صف ينتمي الحيوان في الصورة ؟	
	A الأسماك	
	B الزواحف	
	C الثدييات	
	D البرمائيات	

1.3	ما موطن غزال المها؟	
	A الجبال	
	B الغابات	
	C الأراضي الزراعية	
	D الصحاري الحارة	

1.4	أي الحيوانات التالية يغطي جسمه الفرو؟	
	A ثعبان	
	B أرنب	
	C حمامة	
	D سمكة السلمون	

1.5 أي الحيوانات التالية يتغذى على النباتات؟

الجمل	A	
الثعلب	B	
الصقر	C	
القرش	D	





1.6 أي حيوان مما يلي يتنفس بالخياشيم؟

الببغاء	A	
الفراشة	B	
سمكة الضاري	C	
الدب القطبي	D	

1.7 أي حيوان مما يلي من الفقاريات؟

الحبار	A	
الريبان	B	
الضفدع	C	
الدودة	D	

1.8 أي مما يلي ينمو؟

	A	
	B	
	C	
	D	

ما الخاصية المشتركة بين صفي الزواحف والأسماك؟

1.9

تتكاثر بالبيض	A	
تتكاثر بالولادة	B	
تتنفس بالرئتين	C	
تتنفس بالخياشيم	D	

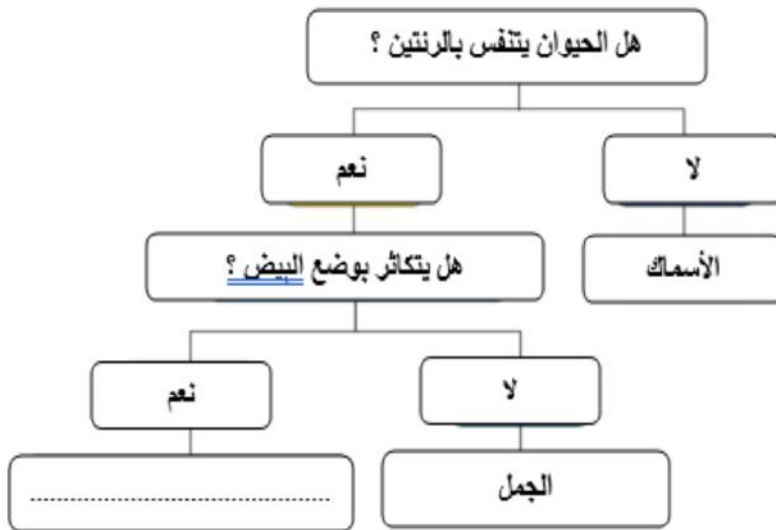
أي الكائنات التالية صنف بشكل صحيح في مجموعة واحدة؟

1.10

الثعبان – التمساح – الحمامة	A	
الأسد – الثعلب – الدب القطبي	B	
الصقر – الضفدع – السمندل	C	
سمك القرش – سمك الهامور – الضفدع	D	

أي الكائنات الحية التالية مناسب لإكمال مفتاح التصنيف الذي أمامك؟

1.11



A الفهد

B القطه

C الثعبان

D الدولفين

ما الحيوان الذي يغطي جسمه ريش؟

1.12

حصان	A	
ثعبان	B	
سمكة	C	
دجاجة	D	

1.13	ما موطن ببغاء الماكو؟
	<input type="checkbox"/> A الصحاري الحارة
	<input type="checkbox"/> B البحار والمحيطات
	<input checked="" type="checkbox"/> C الغابات المطيرة الاستوائية
	<input type="checkbox"/> D الأراضي الزراعية والغابات

1.14	ما موطن سمكة السلمون؟
	<input type="checkbox"/> A الصحاري الحارة
	<input checked="" type="checkbox"/> B المحيط والانهار
	<input type="checkbox"/> C البحار والمحيط
	<input type="checkbox"/> D الأراضي الزراعية والغابات

1.15	ما موطن نبات الزنباق المائية؟
	<input type="checkbox"/> A الصحاري الحارة
	<input checked="" type="checkbox"/> B بحيرات الماء العذب
	<input type="checkbox"/> C البحار والمحيط
	<input type="checkbox"/> D الأراضي الزراعية والغابات



أ- صنف الكائنات الحية في مجموعتين حسب طريقة التكاثر:

(الصقر – الارنب – غزال المها – سمكة الهامور – الثعلب – الثعبان)

تلد صغارها	تضع البيض
الأرنب	الصقر
غزال المها	الهامور
الثعلب	الثعبان

ب- صنف الكائنات الحية في مجموعتين حسب طريقة التنفس:

(سمك القرش – الأسد – الصقر – سمكة الهامور – سمكة السلمون – الثعبان)

يتنفس بالخياشيم	يتنفس بالرئتين
سمك القرش	الأسد
سمكة الهامور	الثعبان
سمكة السلمون	الصقر

1- أذكر اثنان من خصائص الكائنات الحية؟

أ- النمو .

ب- التكاثر

2- أكتب خاصيتين من خصائص البرمائيات؟

1-لها جلد رطب -تضع البيض في الماء -الصغار تتنفس بالخياشيم والكبار بالرئتين

3- أذكر خاصيتين يمكن استخدامها لتصنيف الحيوانات في مجموعات؟

أ- الموطن

ب- غطاء الجسم -الغذاء -طريقة التنفس

4- أذكر خاصيتين يمكن استخدامها لتصنيف النباتات في مجموعات؟

1-الموطن -2-وجود الأزهار أو عدمه -وجود الجذور -الطول والارتفاع

5- أذكر خاصيتين يمكن استخدامها لتصنيف الورود في مجموعات؟

أ- الرائحة

ب- اللون - ارتفاع نباتها.

6- سمي خاصيتين للصقر يمكن ملاحظتها؟

يغطي جسمه الريش -يبيض -له جناحان

7- أذكر مثال واحد على نبات له أشواك حادة؟

صبار

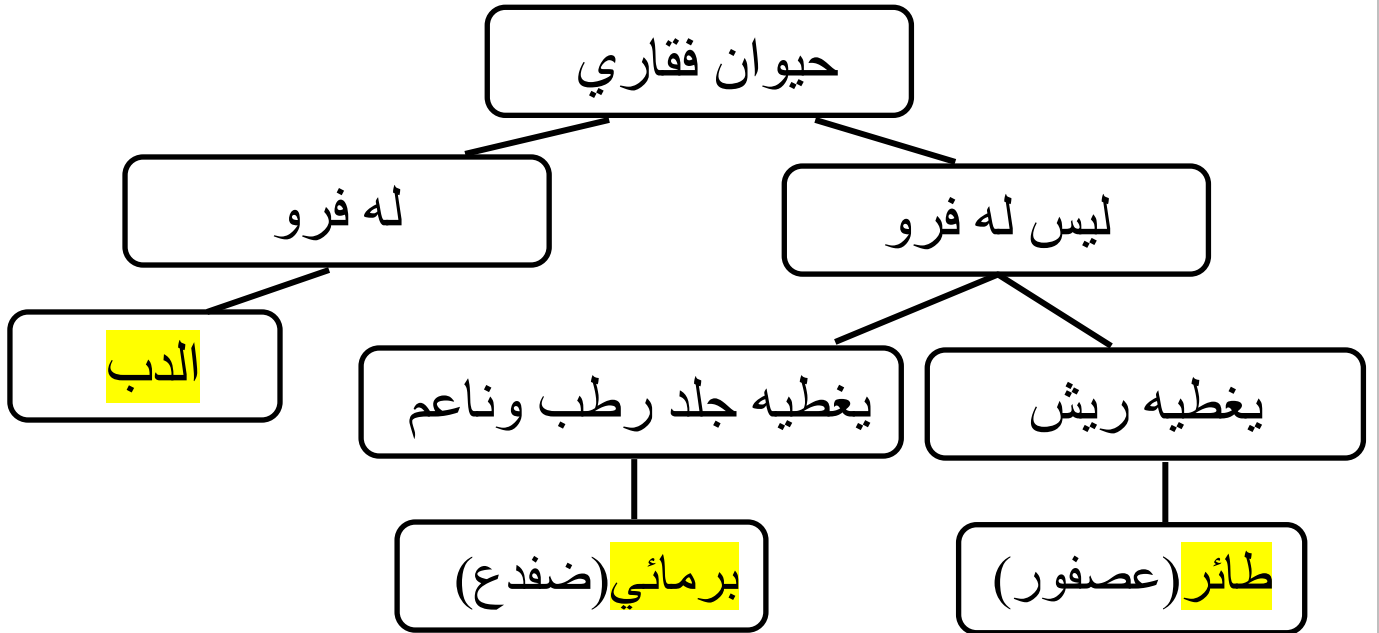
8- أذكر مثال على الزواحف؟

تمساح -أفعى -ضب

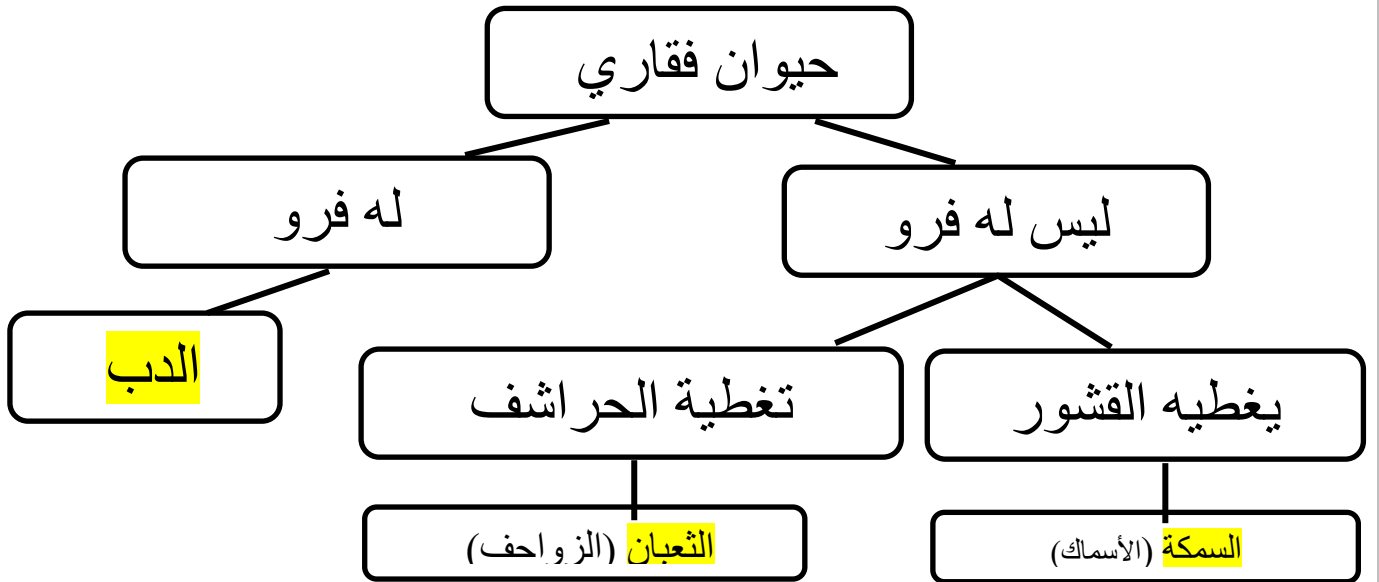
9- أذكر مثال على البرمائيات؟

الضفدع -العلجوم -السمندل

أ- أكمل مفتاح التصنيف التالي.



ب- أكمل مفتاح التصنيف التالي.



عليك عزيزتي الطالبة دراسة تحقق مما تعلمت في نهاية الدروس بعد الانتهاء من الملزمة وذلك للتأكد من الاطلاع على المعلومات ككل الصفحات المهمة في وحدة التصنيف:

ص 195 – 223 – 224 – 232 – 238 – 239 – 246 – 247 – 253 – 273 – 279 – 280